


### Задание 1.

Обозначь галочкой дорогу, которая приведет семью на лужайку к горам.



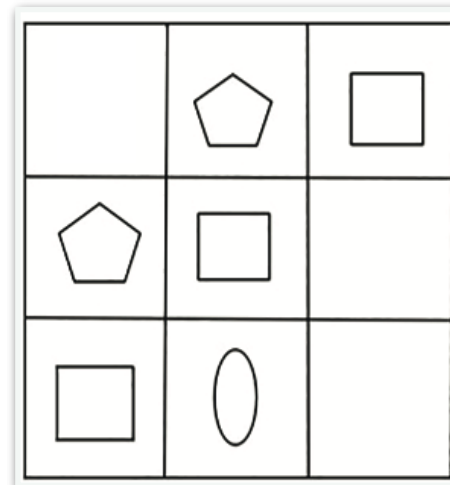
### Задание 2.

Волшебник задумал число, если к нему прибавить два, то оно будет на один меньше девяти. Какое число задумал Волшебник?

Ответ: \_\_\_\_\_

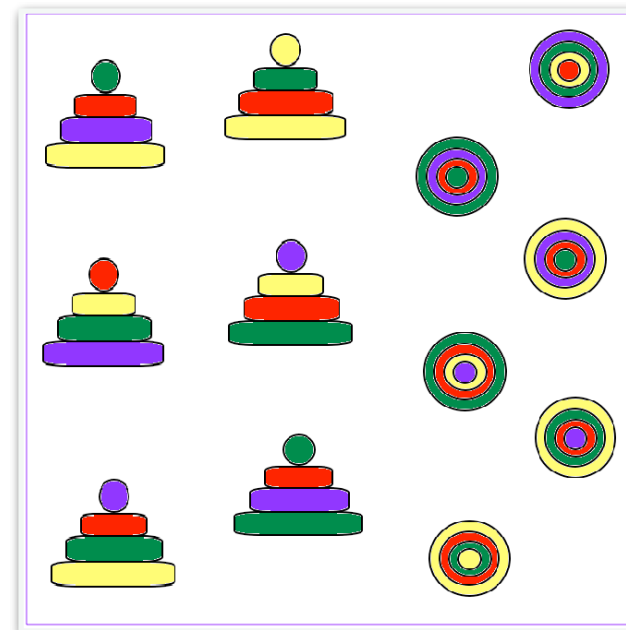
### Задание 8

Дорисуй правильные картинки в пустых клеточках.



### Задание 9.

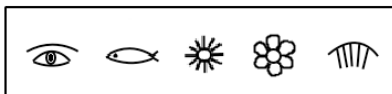
Вид сверху и с боку. Собери пары.





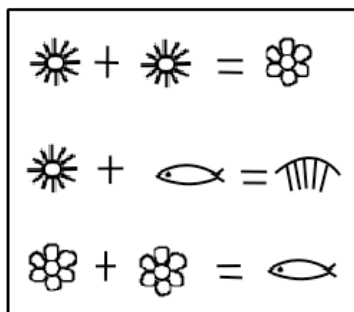
### Задание 7.

В древние времена символы:



обозначали числа - 1, 2, 3, 4, 5.

Известно, что



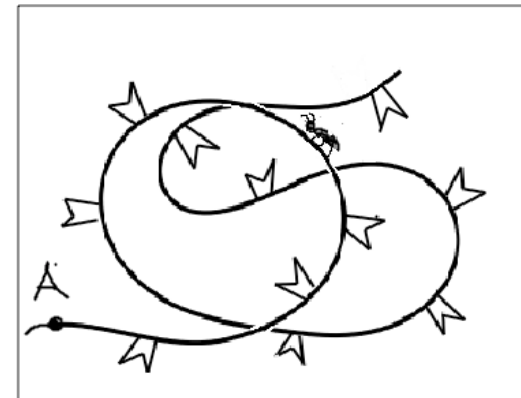
Каким символом обозначалось число "3"?

Ответ: \_\_\_\_\_



### Задача 3.

Муравей ползёт по гирлянде из флажков. Он начал от точки А и уже прополз мимо трёх флажков. Сколько ещё флажков он встретит до конца гирлянды?

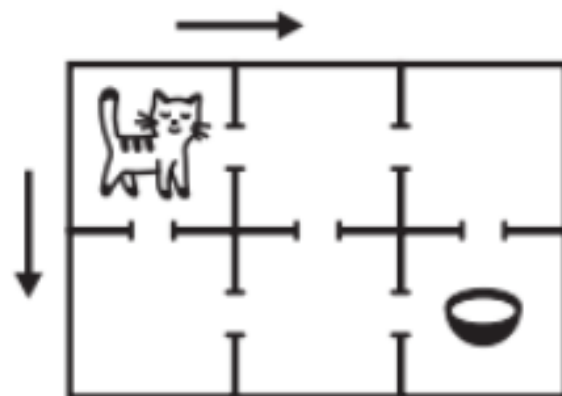


Ответ: \_\_\_\_\_

### Задача 4.

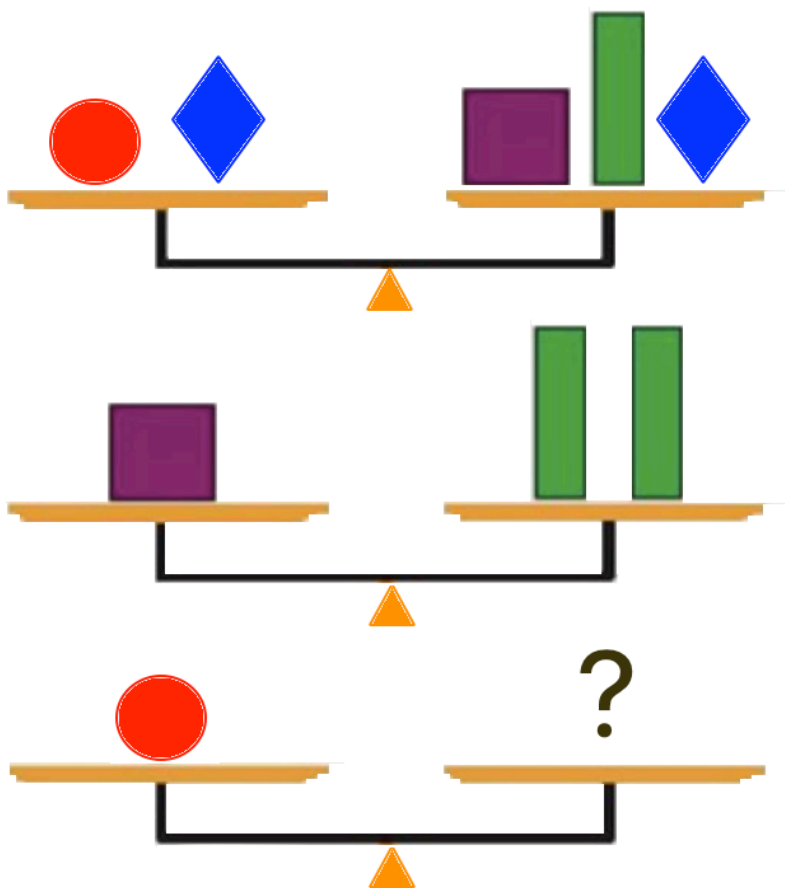
В доме шесть комнат. Кошка может ходить по направлениям, показанным стрелочками. Сколько разных путей приведут ее в комнату, где стоит миска с молоком:

Ответ: \_\_\_\_\_



Задание 5.

Выбери нужный ответ или нарисуй свой.



Задание 6.

Повтори рисунок по точкам.

